











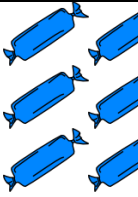

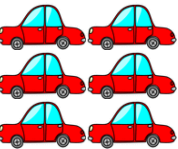















1. Zakroužkuj 4- červeně, 6 – modře, 2- zeleně



2. Spočítej předměty v každém okně a přiřaď k nim číslo - využij čísla ze strany č.3

1	2	3	4	5
6	7	8	9	10
<	>	=		

3. Úkoly s čísly

- čísla vytiskni, rozstříhej a slož číselnou řadu 1-10
- hledej čísla dle diktátu rodičů, sourozence
- použij znaménka menší, větší, rovná se a vkládej správně mezi dvě čísla
- úkoly můžeš opakovat i další dny (čísla i obrázky si můžeš schovat do obálky, krabičky)

4. Porovnávání čísel – pracovní list. < > =

6	4
8	9
3	3
7	7
1	1
2	8
8	5
10	10
3	3
2	2
9	4
0	0
3	9
5	5
2	5
1	2
8	7
9	9

1	2
9	9
4	4
5	9
3	4
0	0
8	8
2	3
1	1
7	8
2	2
8	8
2	8
9	3
7	1
4	0
10	10
2	1

5. Počty do 100 – můžeš použít i kalkulačku

1	2	3	4
$70 + 20 =$ _____	$10 + 70 =$ _____	$50 + 40 =$ _____	$30 - 30 =$ _____
$60 + 0 =$ _____	$20 + 20 =$ _____	$10 + 60 =$ _____	$100 - 40 =$ _____
$90 + 10 =$ _____	$30 + 60 =$ _____	$40 + 40 =$ _____	$30 - 10 =$ _____
$20 + 50 =$ _____	$40 + 30 =$ _____	$30 + 20 =$ _____	$70 - 0 =$ _____
$40 + 60 =$ _____	$50 + 0 =$ _____	$10 + 50 =$ _____	$80 - 30 =$ _____
$60 + 10 =$ _____	$80 + 10 =$ _____	$20 + 30 =$ _____	$100 - 100 =$ _____
$40 + 0 =$ _____	$40 + 10 =$ _____	$80 - 10 =$ _____	$30 - 0 =$ _____
$40 + 20 =$ _____	$10 + 20 =$ _____	$10 - 10 =$ _____	$90 - 90 =$ _____
$50 + 10 =$ _____	$50 + 30 =$ _____	$60 - 40 =$ _____	$70 - 50 =$ _____
$30 + 10 =$ _____	$10 + 10 =$ _____	$40 - 20 =$ _____	$100 - 80 =$ _____
$60 + 30 =$ _____	$50 + 50 =$ _____	$90 - 60 =$ _____	$70 - 70 =$ _____
$30 + 70 =$ _____	$10 + 30 =$ _____	$60 - 50 =$ _____	$100 - 50 =$ _____
$60 + 20 =$ _____	$20 + 10 =$ _____	$50 - 20 =$ _____	$90 - 70 =$ _____
$80 + 20 =$ _____	$20 + 80 =$ _____	$40 - 10 =$ _____	$80 - 0 =$ _____
$20 + 60 =$ _____	$80 + 0 =$ _____	$90 - 30 =$ _____	$70 - 10 =$ _____
$10 + 80 =$ _____	$30 + 50 =$ _____	$80 - 20 =$ _____	$60 - 30 =$ _____
$70 + 10 =$ _____	$20 + 0 =$ _____	$60 - 60 =$ _____	$80 - 80 =$ _____
$50 + 20 =$ _____	$40 + 50 =$ _____	$90 - 10 =$ _____	$100 - 10 =$ _____
$20 + 40 =$ _____	$10 + 90 =$ _____	$70 - 30 =$ _____	$60 - 0 =$ _____
$70 + 0 =$ _____	$30 + 40 =$ _____	$90 - 40 =$ _____	$100 - 60 =$ _____
$30 + 30 =$ _____	$90 + 0 =$ _____	$40 - 0 =$ _____	$60 - 20 =$ _____
$20 + 70 =$ _____	$60 + 40 =$ _____	$70 - 60 =$ _____	$100 - 70 =$ _____
$30 + 0 =$ _____	$70 + 30 =$ _____	$80 - 70 =$ _____	$90 - 20 =$ _____

6. Spočítej příklady a vybarvi podle výsledků.

3- černá 4- růžová 5- zelená 6- žlutá
7- červená 8- modrá

