

## MATEMATIKA




### PÍSEMNÉ SČÍTÁNÍ A ODČÍTÁNÍ

40	20	50	80	50	70	40	90
<u>60</u>	<u>30</u>	<u>20</u>	<u>10</u>	<u>50</u>	<u>20</u>	<u>40</u>	<u>10</u>

56	62	84	92	46	34	86	12
<u>2</u>	<u>5</u>	<u>1</u>	<u>6</u>	<u>2</u>	<u>3</u>	<u>1</u>	<u>7</u>

Vypočítej příklady a výsledek spoj se správnou kytkou

53	42	21	65	93	88	71
<u>5</u>	<u>6</u>	<u>3</u>	<u>1</u>	<u>4</u>	<u>1</u>	<u>7</u>



## NÁSOBENÍ, DĚLENÍ

### ZAKROUŽKUJ NÁSOBKY č. 4

15      19      25      16      29      37

13      18      24      35      31      10      8

20      38      32      22      14      12

28      26      40      4      6      2      36

### SLOVNÍ ÚLOHY

**Petr koupil v cukrárně 8 lízátek. Zaplatil dohromady 32 korun.  
Kolik stálo jedno lízátko?**

**Sušenka stojí 9 korun. Kolik zaplatí Anička, když si koupí 3 sušenky?**

## NÁSOBENÍ, DĚLENÍ

$7 \cdot 2 =$

$3 \cdot 2 =$

$9 \cdot 2 =$

$0 \cdot 2 =$

$3 \cdot 3 =$

$6 \cdot 3 =$

$2 \cdot 3 =$

$9 \cdot 3 =$

$6 \cdot 4 =$

$8 \cdot 4 =$

$3 \cdot 4 =$

$7 \cdot 4 =$

$12 : 2 =$

$10 : 2 =$

$20 : 2 =$

$8 : 2 =$

$24 : 3 =$

$21 : 3 =$

$3 : 3 =$

$15 : 3 =$


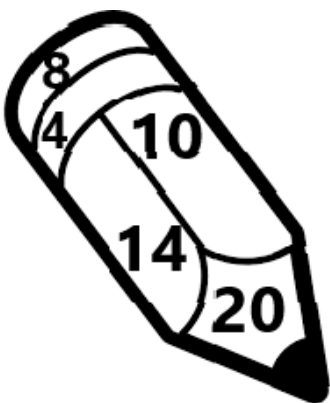
$8 : 4 =$

$36 : 4 =$

$40 : 4 =$

$20 : 4 =$

VYBARVI ŽLUTOU BARVOU NÁSOBKY č. 2  
A ČERVENOU BARVOU NÁSOBKY č. 3



DO POSLEDNÍ PASTELKY NAPIŠ NÁSOBKY č. 4

