

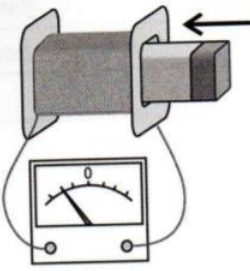
## Fyzika 9.A č 2

Prostuduj si pečlivě novou kapitolu **12. Jak vyrábíme elektrickou energii**

- 1) Přečti si text v učebnici str, 70-73
- 2) Odpověz na otázky na str. 73, písemně na papír či do sešitu
- 3) Vypracuj pracovní sešit str. 24, pokud nemáš je naskenovaný níže

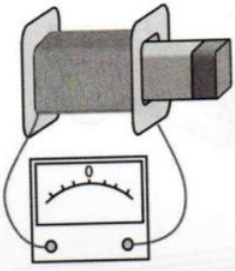
1. Napiš ke každé cívce, jestli jí proud **PROCHÁZÍ**, nebo **NEPROCHÁZÍ**.

*magnet strkáš do cívky*



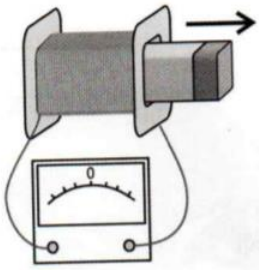
\_\_\_\_\_

*magnet leží v cívce*



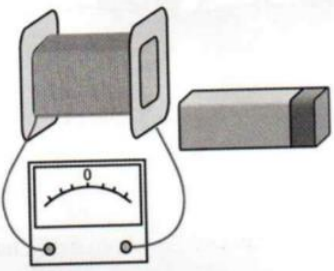
\_\_\_\_\_

*magnet táhneš z cívky*



\_\_\_\_\_

*magnet leží vedle cívky*



\_\_\_\_\_

2. Některé z těchto přístrojů jsou generátory. Udělej okolo nich tužkou kroužek.

