

## Přírodopis 9.A č.3

### Vznik a vývoj organismů na Zemi

- 1) přečti si pozorně text v učebnici str. 43-48, ke každému tématu si prohlédni pozorně i obrázky
- 2) Odpověz písemně na otázky za textem v učebnici str. 48
- 3) Vypracuj v PS stranu 10
- 4) Podívej se na videa

<https://www.youtube.com/watch?v=1EBy603fZ7k>

<https://www.youtube.com/watch?v=q-nLSIhidlM>

<https://www.youtube.com/watch?v=rk-2EwnevjY>

- 5) Odpověz na tyto otázky (písemně)
  - a) Ve kterém období se začala oddělovat Pangea?
  - b) Z jakého období pochází černé uhlí?
  - c) Která éra se nazývá érou savců?
  - d) Ve kterém období se objevili první obratlovci?
  - e) Co nebo kdo se vyvinul z latimérie?
  - f) Jací živočichové žili v meziledové době?
- 6) Podívej se na rozdělení


## GEOLOGICKÉ ÉRY

<b>4 700 - 4 000 mil. let</b>	<b>PŘEDGEOLOGICKÉ OBDOBÍ</b>	
<b>4 000 - 2 500 mil. let</b>	<b>PRAHORY</b>	<b>Prekambrium</b>
<b>2 500 - 590 mil.let</b>	<b>STAROHORY</b>	
<b>590 - 250 mil. let</b>	<b>PRVOHORY</b>	<b>Kambrium</b>
		<b>Ordovik</b>
		<b>Silur</b>
		<b>Devon</b>
		<b>Karbon</b>
		<b>Perm</b>
<b>250 - 66 mil. let</b>	<b>DRUHOHORY</b>	<b>Trias</b>
		<b>Jura</b>
		<b>Křída</b>
<b>66 - 1,7 mil. let</b>	<b>TŘETIHORY</b>	<b>Paleogén</b>
		<b>Neogén</b>
<b>1,7 mil. let - dnešek</b>	<b>ČTVRTOHORY</b>	<b>Pleistocén</b>
		<b>Holocén</b>

7) Vypracuj

## GEOLOGICKÁ OBDOBÍ VÝVOJE ZEMĚ


1. Přiřaď k živočichům název éry




.....



.....



.....

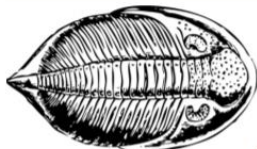


.....



20cm

.....



.....



.....