

MATEMATIKA

PÍSEMNÉ SČÍTÁNÍ A ODČÍTÁNÍ

60	90	80	70	50	20	80	40
<u>-20</u>	<u>-70</u>	<u>-50</u>	<u>-60</u>	<u>-30</u>	<u>-10</u>	<u>-20</u>	<u>-10</u>

75	81	97	62	38	24	46	59
<u>-5</u>	<u>-1</u>	<u>-7</u>	<u>-2</u>	<u>-8</u>	<u>-4</u>	<u>-6</u>	<u>-9</u>

DOPLŇ ČÍSLA, ABY ZAPSANÝ VÝSLEDEK BYL SPRÁVNÝ.

60	70	90	50	30	80	20	70
<u>-....</u>	<u>-....</u>	<u>-....</u>	<u>-....</u>	<u>-....</u>	<u>-....</u>	<u>-....</u>	<u>-....</u>
58	66	85	44	28	73	16	61

SLOVNÍ ÚLOHY

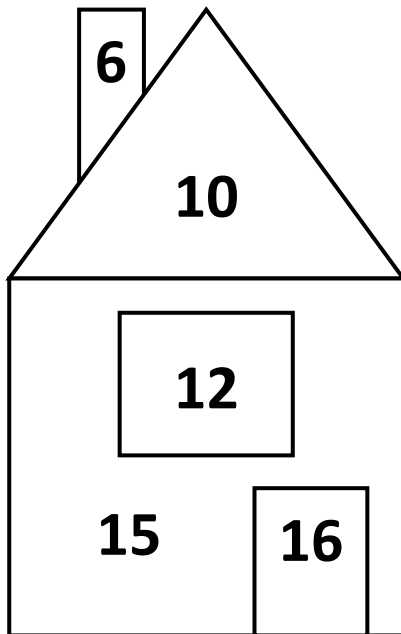
Babička uvařila 30 jahodových knedlíků. Děda snědl 9 knedlíků.

Kolik jahodových knedlíků zbylo?

Na poli vysázeli 40 řádků salátů. Kedluben vysázeli o 6 řádků více. Kolik řádků kedluben vysázeli?

NÁSOBENÍ A DĚLENÍ

VYPOČÍTEJ A HLEDEJ SPRÁVNÝ VÝSLEDEK UKRYTÝ V OBRÁZCÍCH.



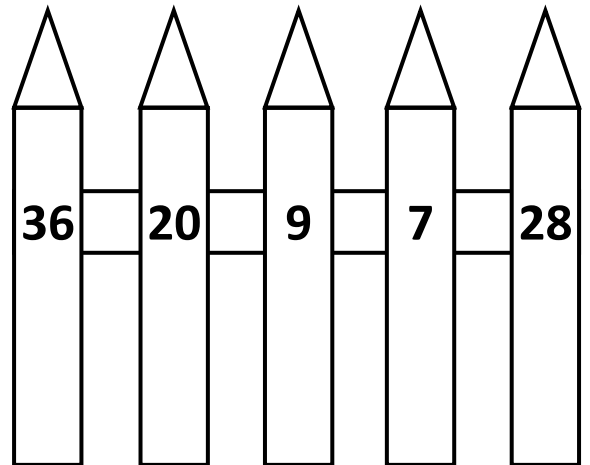
$4 \cdot 3$ $5 \cdot 4$

$24 : 4$ $18 : 2$

$40 : 4$ $21 : 3$

$8 \cdot 2$ $7 \cdot 4$

$5 \cdot 3$ $9 \cdot 4$



VYBARVI NÁSOBKY ČÍSLA 3

24	17	6	1	40	12	7
18	4	8	15	16	22	21
2	9	30	19	3	20	23

VYPOČÍTEJ

$5 \cdot 4 =$

$36 : 4 =$

$8 : 2 =$

$18 : 2 =$

$27 : 3 =$

$12 : 4 =$

$20 : 2 =$

$8 \cdot 3 =$


$9 \cdot 3 =$

$5 \cdot 2 =$

VYPOČÍTEJ A VYBARVI SI OBRÁZEK VODNÍKA

11 = černá 12 = červená 13 = žlutá

14 = modrá 15 = oranžová 16 = zelená 17 = hnědá



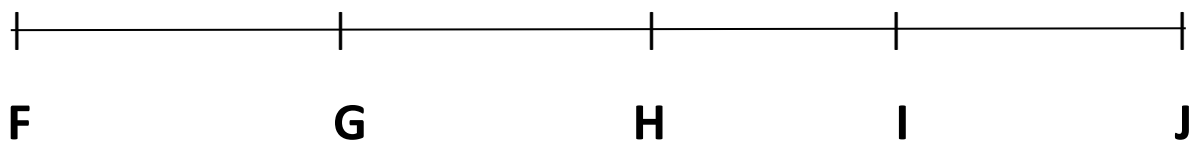
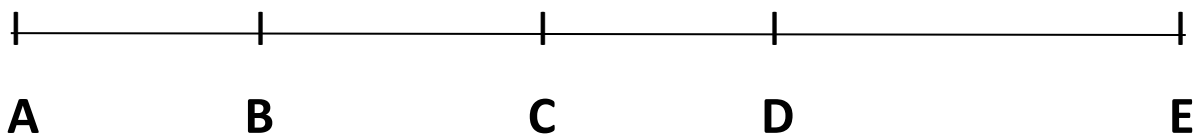
GEOMETRIE

NARÝSUJ ÚSEČKU $|AB| = 4 \text{ cm}$. NAD NÍ NARÝSUJ ÚSEČKU EF, KTERÁ JE TŘÍKRÁT DELŠÍ.

NARÝSUJ ÚSEČKU $|MN| = 16 \text{ cm}$. NAD NÍ NARÝSUJ ÚSEČKU KL, KTERÁ JE DVAKRÁT KRATŠÍ.

OBTÁHNI MODROU PASTELKOU TYTO ÚSEČKY : AB, CD, GH, IJ.

OBTÁHNI ČERVENOU PASTELKOU TYTO ÚSEČKY : BC, DE, FG, HI.



VYBARVI SI OBRÁZEK KLAUNA, PODLE GEOMETICKÝCH TVARŮ

